

2020年度

入学試験問題

(40分)

社 会

(アカデミーコース)

学校法人 成美学園

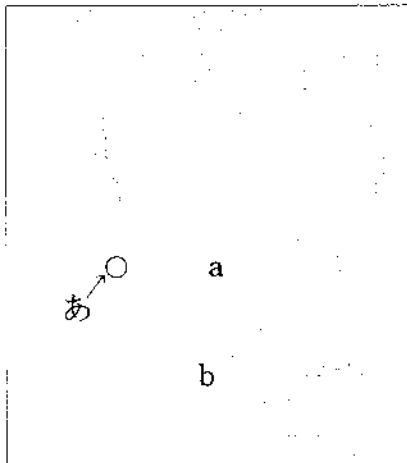
福知山成美高等学校

受験上の注意

- 試験開始の合図があるまで、この問題冊子の中を見てはいけません。
- 解答はすべて解答用紙に記入しなさい。
- 試験中に問題冊子および解答用紙の汚れなどに気付いた場合は、手を挙げて監督者に知らせなさい。
- 漢字で書くべきものは、漢字で答えなさい。

【1】問題A・Bに答えなさい。

A. 北アメリカ大陸について、次の各問いに答えなさい。



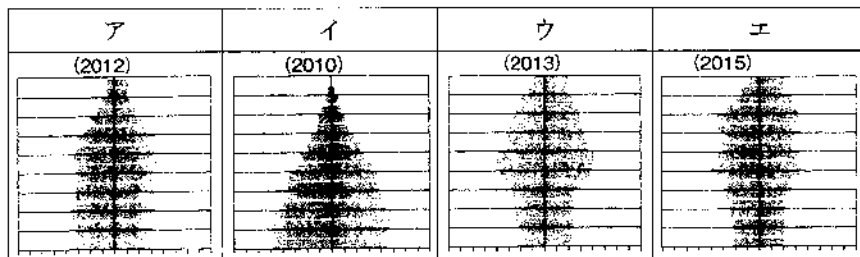
(1) a国の南西部に移住してくるスペイン語を話す人々を何というか答えなさい。

(2) 次の文の①～④に入る適語の組み合わせとして最も適当なものを、下のア～エの中から1つ選び、記号で答えなさい。

a国は、①からの独立当初は②岸の③州からなっていたが、次第に国土を拡大し、現在は④州からなっている。

	ア	イ	ウ	エ
①	イギリス	フランス	イギリス	フランス
②	太平洋	太平洋	大西洋	大西洋
③	5	13	13	5
④	53	50	50	53

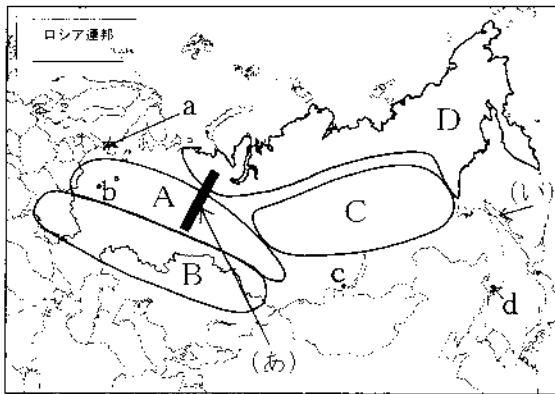
(3) 次の人口ピラミッドは、a国、b国、イタリア、日本のものである。b国の人口ピラミッドとして最も適当なものを、次のア～エの中から1つ選び、記号で答えなさい。



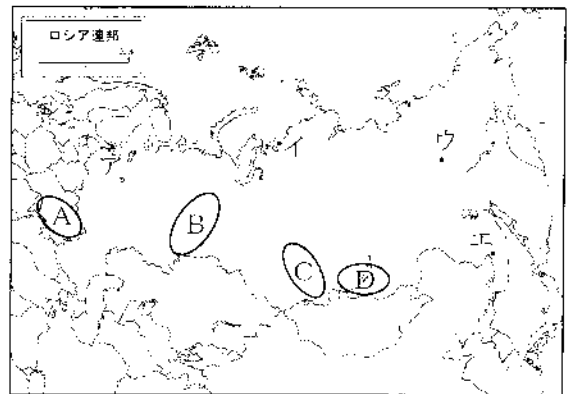
(4) 福知山市に住んでいるナルミさんは、2月10日の正午(12時00分)にニューヨークに留学しているショウタ君に電話をかけました。その時のニューヨークの日時を答えなさい。(ニューヨークの標準時線は西経75度である)

- (5) 地図中(あ)の地域、サンフランシスコ郊外にある半導体・集積回路など先端技術産業が集積している地域を何というか答えなさい。

B. ロシアについて、次の各問いに答えなさい。



地図 I



地図 II

- (1) ロシアの農林業の地域区分(小麦栽培、トナカイの遊牧、混合農業、タイガ)のうち、小麦栽培地はどこか、地図 I 中の A～D の中から 1 つ選び、記号で答えなさい。
- (2) ロシア連邦の首都を、地図 I 中の a～d の中から 1 つ選び、記号で答えなさい。
- (3) 地図 I 中の(あ)の山脈と(い)の島の名前を答えなさい。
- (4) 地図 II 中の A～D は、アンガラ・バイカル工業地帯、ウラル工業地帯、クズネツク工業地帯、ドニエプル工業地帯の位置を、下のア～エは各工業地帯の内容を示している。アンガラ・バイカル工業地帯の位置を A～D から、内容をア～エの中からそれぞれ 1 つ選び、記号で答えなさい。

ア. 湖周辺に広がる工業地域で、シベリアの林産資源などを背景に、製鉄・冶金・化学・製紙・パルプなどの工業が発達し、チュメニ油田からパイプラインが通っている。

イ. 炭田を基礎に成立したシベリア最大の工業地帯である。オビ川の水力発電を利用して金属・機械・化学などの重工業が発達している。

ウ. ドネツ炭田の石炭とクリボイログで産出される鉄鉱石を基盤にして、鉱工業などの重工業を中心に発達した。現在のウクライナに位置する。

エ. マグニトゴルスクの鉄鉱、ベチョラの石炭、ボルガ油田などの石油を基礎原料として重化学工業が発達している。チェリャビンスクやエカテリンブルクなどは中心的な工業都市である。

(5) 氷点下71.2℃を記録した「北半球の寒極」と呼ばれている町はどこか、地図Ⅱ中のア～エの中から1つ選び、記号で答えなさい。

【2】問題A・Bに答えなさい。

A. 次の①～⑤の文章を読み、次の各問いに答えなさい。

- ① 日本のほぼ中央に位置し、北は日本海、南は瀬戸内海に面している。日本の標準時を定めるA 子午線が貫いている。北部の但馬地方は伝統的に畜産が盛んで、但馬牛が有名である。阪神、播磨両地区は工業地帯を形成し人口も集中している。
- ② 東北地方の北西部に位置し、日本海に面している。夏は高温で稲の発育に適し日本有数の生産量を誇る。米代川流域は林業も盛んである。隣県にかけて広がる白神山地は、屋久島とともに日本で初めて（あ）の世界遺産に登録された。
- ③ 三方が東シナ海に面し、島嶼群の面積は総面積の約45%を占めている。かつての肥前国の一部と対馬国・壱岐国で、古くから大陸との交通の要地であった。B キリスト教布教の中心地でもあったため殉教者の悲話が多い。
- ④ 本州の中央部に位置し、日本アルプスは3000m級の山が多く「日本の屋根」といわれている。森林資源に恵まれ、特に木曾谷のヒノキは日本三大美林の一つである。C 県境は8県に接している。
- ⑤ 瀬戸内海に面する県で、県庁所在地（い）の道後温泉は、夏目漱石の小説『坊ちゃん』の舞台にもなった。果物の生産も多く、みかんの生産量は有数である。

(1) ①の都道府県名を漢字で答えなさい。また、下線部Aの経度を答えなさい。

(2) ②の都道府県名を漢字で答えなさい。また、（あ）に入る国連の機関名をアルファベットで答えなさい。

(3) ③の都道府県名を漢字で答えなさい。また、下線部Bについて、キリスト教禁止令を出した江戸幕府の2代将軍は誰か答えなさい。

(4) ④の都道府県名を漢字で答えなさい。また、下線部Cについて、該当しない県を次のア～オの中から1つ選び、記号で答えなさい。

- ア. 愛知県 イ. 埼玉県 ウ. 神奈川県 エ. 群馬県
オ. 新潟県

(5) ⑤の都道府県名を漢字で答えなさい。また、(い)に入る都市名を答えなさい。

B. 次の各問いに答えなさい

(1) 次の文中の①～③にあてはまる語句を答えなさい。

日本列島は(①)造山帯に属し、国土の4分の3が山地であり、火山や(②)も多い。また、飛騨山脈、(③)山脈、赤石山脈は日本アルプスと呼ばれている。

(2) 京浜、中京、阪神、北九州の工業地帯・地域をはじめ、その間に位置する東海、瀬戸内等の工業地域を含めた帯状の地域を何というか答えなさい。

(3) 次の資料を見て、A～Cの農産物(穀物)名をそれぞれ答えなさい。

	生産の多い国	輸出の多い国	輸入の多い国
A	中国 インド インドネシア バングラデシュ ベトナム	タイ インド ベトナム パキスタン アメリカ	中国 ベナン コートジボワール インドネシア サウジアラビア
B	中国 インド ロシア アメリカ カナダ	ロシア アメリカ カナダ フランス オーストラリア	インドネシア エジプト アルジェリア イタリア スペイン
C	アメリカ 中国 ブラジル アルゼンチン メキシコ	アメリカ アルゼンチン ブラジル ウクライナ フランス	日本 メキシコ 韓国 ベトナム スペイン

データソース：FAOデータベース 2019 により作成

(4) 次の①と②の説明に該当する漁業の名称を答えなさい。

①魚・貝などを、海や湖の水槽や生けずで大きくなるまで育てる漁業。

②卵からふ化した稚魚などをある程度育てた後、海などに放流してから漁獲する漁業。

(5) 次の①②の工業地帯・地域の中心となる工業は何か、次のア～エの中から、それぞれ1つ選び、記号で答えなさい。

①中京工業地帯

②瀬戸内工業地域

ア、機械工業 イ、石油化学工業 ウ、製紙工業 エ、食品工業

【3】次の各文を読み、次の各問いに答えなさい。

① 私は、724年に即位し、災いから逃れるように恭仁京、難波宮、紫香樂宮に都を移したが、再び【 A 】に都を戻した。743年には墾田永年私財法を制定し、公地の私有を認めた。

② 私は1145年に比叡山に登り、天台教学を学び、下山後、念仏を唱えれば死後だれでも平等に極楽に往生できるという「専修念仏」の教えを説いた。

③ 私は、明治維新後の新政府で要職を歴任し【 B 】使節団の副使として欧米を視察した。その後、初代の内閣総理大臣に就任した。

④ 私は、モンゴル帝国のハンとして、中国全土を支配し、C日本にも侵攻したが失敗した。再び侵攻したが失敗した。

⑤ 私は、第二次世界大戦後、D中国の最高指導者となり、文化大革命の際にはその先頭に立ち国政も主導した。

(1) ①～⑤の人物は誰か。答えなさい。

(2) 【 A 】に入る都の名前を漢字3文字で答えなさい。

(3) ②の人物がひらいた、新しい仏教の宗派を何というか答えなさい。

(4) 【 B 】の使節団の団長の名前をフルネーム(漢字)で答えなさい。

(5) 下線部Cの2度の日本侵攻を何というか漢字2字で答えなさい。

(6) 現在の下線部Dの名前をフルネーム(漢字)で答えなさい。

【4】次の年表について各問いに答えなさい。

(1) 年表中Aについて、ホルトガル人によってはじめて鉄砲が伝わったのはどこか、資料Ⅰの①～④から1つ選び、記号で答えなさい。

【年表】

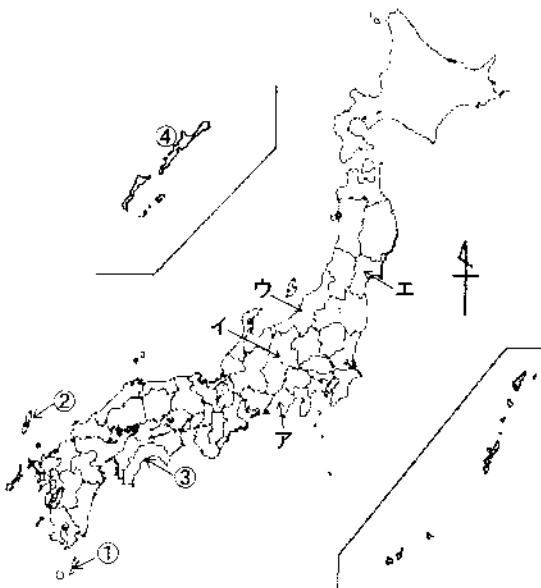
年代	できごと
1542	鉄砲伝来・・・A
1549	キリスト教伝来・・・B
1560	桶狭間の戦い・・・C
1573	足利義昭を追放、室町幕府が滅びる
1575	長篠の戦い
1582	本能寺の変・・・D
1585	豊臣秀吉、関白に就任
1590	豊臣秀吉、天下統一・・・E
1592	文禄の役(～1593)・・・F
1597	慶長の役(～1598)
1598	豊臣秀吉死去

(2) 年表中Bについて、資料Ⅱの人物はイエズス会の中心人物であり、キリスト教を日本に初めて伝えた。その名前を答えなさい。

(3) 年表中Cについて、この戦いで織田信長の奇襲により破れた大名の支配地を、資料ⅠのA～Eから1つ選び、記号で答えなさい。

(4) 年表中Dについて、資料Ⅲの人物は本能寺の変で織田信長を自害に追い込んだ信長の家臣である。その名前を答えなさい

【資料Ⅰ】



【資料Ⅱ】



【資料Ⅲ】



(5) 年表中Eに関連する説明文を下記のア～エから1つ選び、記号で答えなさい。

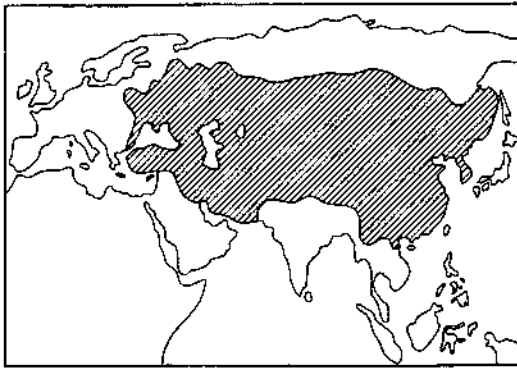
- ア、宗教的権威であった比叡山延暦寺を焼き討ちした。
- イ、関ヶ原の戦いで徳川家康らの東軍に勝利した。
- ウ、関東の北条氏を滅ぼし、伊達氏など東北の諸大名を屈服させた。
- エ、上杉謙信と川中島で何度も激突した。

(6) 年表中Fについて、日本軍を苦しめた朝鮮水軍の武将は誰か。次のア～エから1つ選び、記号で答えなさい。

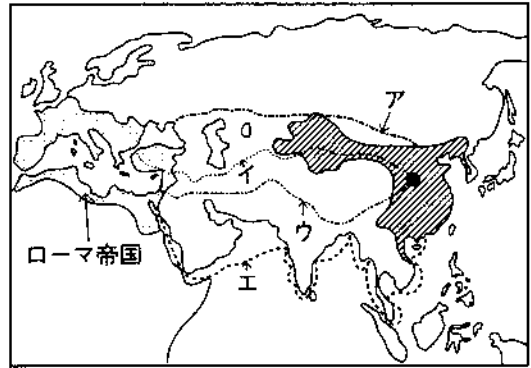
- ア、李舜臣
- イ、好太王
- ウ、李鴻章
- エ、安重根

【5】 次の地図A～Dについて、各問いに答えなさい。

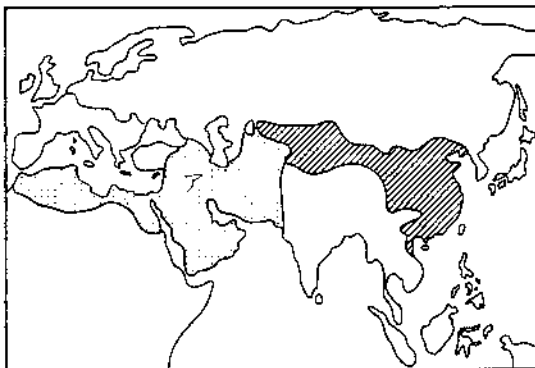
地図A



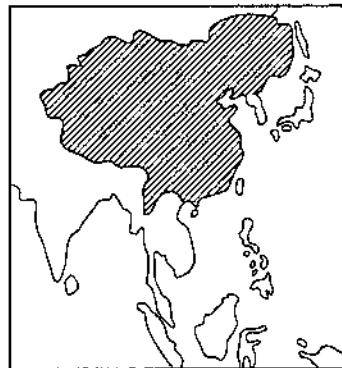
地図B



地図C



地図D



(1) 地図Aの斜線で示した帝国は、13世紀に東は朝鮮半島から西は東ヨーロッパまでを支配し、世界史上最大の面積をもった。この国を建国した人物を、次のア～エから1つ選び、記号で答えなさい。

- ア、孫文
- イ、チンギス・ハン
- ウ、始皇帝
- エ、マルコ・ポーロ

(2) 地図Bの時代には、シルクロードを通じて西方からぶどうや仏教が中国に伝えられ、中国からは西アジアやヨーロッパに絹織物が伝えられた。このシルクロードにあてはまるものを、地図Bのア～エから1つ選び、記号で答えなさい。

(3) 地図C〔8世紀頃〕について、アで示した帝国名を答えなさい。

(4) 右の資料は、地図Dの斜線で示した国で起こった事件に関わるものである。この事件が起こった当時の国を、次のア～エから1つ選び、記号で答えなさい。

- ア. 清
- イ. 中華民国
- ウ. 中華人民共和国
- エ. 明



【6】下表を見て次の各問に答えなさい。

衆議院		参議院
465名	定員	248名
25歳以上	被選挙権	30歳以上
[A]区 289名	選挙制度	選挙区 148名
B 比例代表区 176名		B 比例代表区 100名

(1) [A]に入る語句を答えなさい。

(2) 下線部Bの特徴についてあてはまるものを、次のア～エから1つ選び、記号で答えなさい。

- ア. 民意が反映されやすいが、少数党には不利になる。
- イ. 死票が少なく、多くの政党が議席を得ることができる。
- ウ. 候補者一人ひとりを理解しやすくなる。
- エ. 大きな政党が勝ちやすく、政局が安定しやすい。

(3) 選挙区についての説明で、誤っているものを次のア～エから1つ選び、記号で答えなさい。

- ア. 大選挙区では、少数意見が反映され死票が少なくなる。
- イ. 中選挙区では、大選挙区制の一種で小選挙区制と大選挙区制の両者の長所をもつといわれる。
- ウ. 小選挙区では、少数意見が反映され死票が少なくなる。
- エ. 中選挙区では、同一政党内でのどうしうちをうみ、派閥争いを発生させやすい。

(4) 両議院の任期について、次の文章に入る数字をそれぞれ答えなさい。

衆議院の任期は〔 あ 〕年で解散があり、参議院の任期は〔 い 〕年で解散はなく〔 う 〕年ごとに半数が改選される。

(5) 衆議院の優越にあたるものを、次のア～エから1つ選び、記号で答えなさい。

- ア. 予算の先議権
- イ. 内閣総理大臣の任命
- ウ. 条約の締結
- エ. 国務大臣の罷免

【7】下の表は国際連盟と国際連合の比較したものである。図を見て次の各問に答えなさい。

	国際連盟	国際連合
本 部	ジュネーブ	(A)
加 盟 国	原加盟国42개국 C アメリカ不参加、ソ連の加盟は1934年 1933年に日本・ドイツが、37年にイタリアが脱退	原加盟国51개국 5 大国(常任理事国)が 最初から参加
主要機関	(B)、理事会(日・英・仏・伊の常任理事国が中心) 事務局、常設国際司法裁判所	(B)、安全保障理事会(5 大国が常任理事国)、経済社会理事会、 信託統治理事会、事務局、D 国際司法裁判所
表決手続	加盟国全部の同意が必要(全会一致制)	多数決制(総会の重要事項の議決は2/3が必要、安保理事会では 原則として、拒否権をもつる5 国すべてを含まり5 国の多数決)

(1) 国際連合の本部の都市名 (A) を答えなさい。

(2) 次のうち国際連合の常任理事国でない国はどれか。次のア～カから1つ選び記号で答えなさい。

- ア. イギリス
- イ. アメリカ
- ウ. ドイツ
- エ. フランス
- オ. ロシア
- カ. 中国

(3) (B) に入る国際連合・国際連盟の主要機関名を答えなさい。

(4) 下線部Cについて、なぜアメリカは参加しなかったのか。次のア～エから1つ選び、記号で答えなさい。

ア．ウィルソン大統領が反対の意思をしめしたから。

イ．アメリカ国内の議会で否決されたから。

ウ．アメリカが積極的に戦争に参加したかったから。

エ．イギリスとフランスが参加したから。

(5) 下線部Dの国際司法裁判所の略称を次のア～エより1つ選び記号で答えなさい。

ア．WTO

イ．ILO

ウ．ICJ

エ．IMF

2020年度 入学試験
社 会 (アカデミーコース) 解答用紙

受験番号

A

【1】

(1)	
(2)	
(3)	
(4)	月 日 時 分
(5)	

B

(1)	
(2)	
(3)	(あ) (い)
(4)	(位置) (内容)
(5)	

A

【2】

(1)		下線部A
(2)		(あ)
(3)		下線部B
(4)		下線部C
(5)		(い)

B

(1)	① ② ③
(2)	
(3)	A B C
(4)	① ②
(5)	① ②

【3】

	①
	②
(1)	③
	④
	⑤
(2)	
(3)	
(4)	
(5)	
(6)	

【4】

(1)	
(2)	
(3)	
(4)	
(5)	
(6)	

【5】

(1)	
(2)	
(3)	
(4)	

【6】

(1)	
(2)	
(3)	
(4)	あ い う
(5)	

【7】

(1)	
(2)	
(3)	
(4)	
(5)	