

平成30年度
入学試験問題
(40分)

社 会

(アカデミーコース)

学校法人 成美学園

福知山成美高等学校

受験上の注意

- 試験開始の合図があるまで、この問題冊子の中を見てはいけません。
- 解答はすべて解答用紙に記入しなさい。
- 試験中に問題冊子および解答用紙の汚れなどに気付いた場合は、手を上げて監督者に知らせなさい。
- 漢字で書くべきものは、漢字で答えなさい。

【1】イギリスに関する文を読んで、下の各問いに答えなさい。

イギリスは、ヨーロッパ大陸の北西にあるグレートブリテン島とアイルランド島北部などからなり、イングランド・ウェールズ・スコットランド・北アイルランドの4地方に分けられる連合王国である。地形はペニン山脈など低平な山脈は走るが概して平坦である。a人口は約6400万人、面積は約24万km²である。

気候は暖流の(あ)海流と(い)風の影響で、b高緯度の割には温和な気候を持ち全土がc西岸海洋性気候である。

農業人口率の割合は非常に少ないがd混合農業・酪農・園芸農業などが盛んで、近年は食料自給率が向上している。工業は世界に先駆けて産業革命を興したが、新興国の台頭に押され自動車工業のように低迷している分野もある。

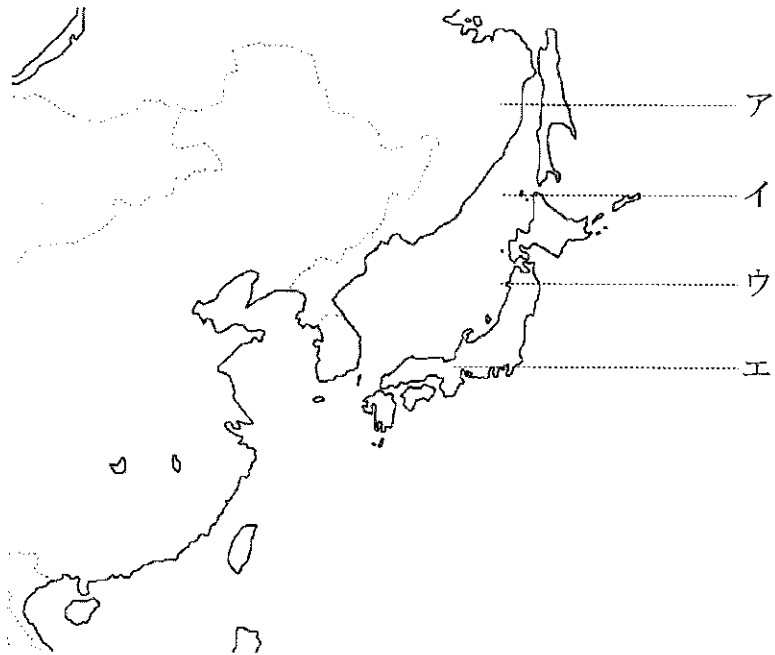
歴史的には1215年にマグナカルタが認められ、エリザベス王朝時代の16～17世紀にはスペインの無敵艦隊を撃破して、1600年には東洋貿易や植民地経営のための特権的な会社である(う)会社を設立し世界に市場と原料を求めて進出した。1688年には名誉革命によって立憲政治を確立した。18～19世紀の産業革命を経て「世界の工場」として躍進、ヴィクトリア王朝時代には大英帝国の絶頂期に至った。第2次世界大戦後は、eインド・マレーシア・ケニア・ガーナ・ジャマイカなどのf植民地が相次いで独立した。1949年にはgNATO、1973年にはEC(現EU)に加盟したが2016年にhEU離脱を表明した。

(1) 下線部 a について、日本と比較してイギリスの人口・面積の割合はおよそどれくらいか。次のア～エの中から最も適当なものを一つ選び、記号で答えなさい。

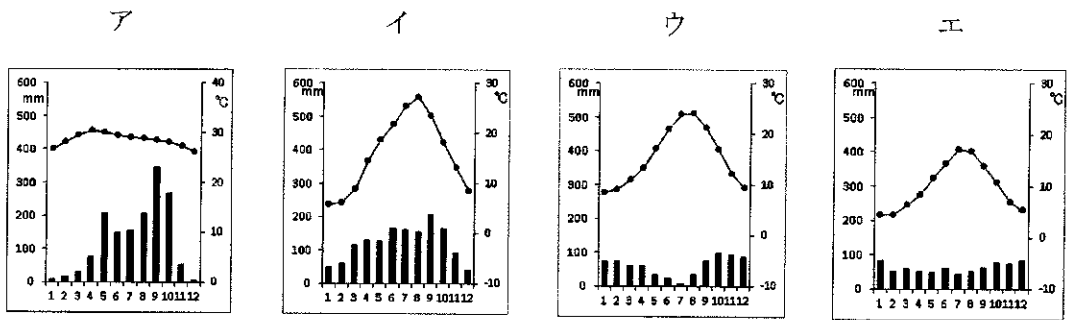
	ア	イ	ウ	エ
人口の割合	2分の1	3分の1	2分の1	3分の1
面積の割合	5分の3	5分の2	5分の4	5分の6


(2) 空欄 (あ) (い) (う) に適語を入れなさい。

- (3) 下線部 bについて、イギリスの首都ロンドンは北緯 50 度付近に位置している。それに最も近いものを、次のア～エの中から一つ選び、記号で答えなさい。



- (4) 下線部 cについて、次の雨温図はロンドン・ローマ・東京・バンコクのものである。ロンドンの雨温図として最も適当なものを次のア～エの中から一つ選び、記号で答えなさい。



(5) 地図中のイギリスを含む  で表された地域のおもな民族は何か。次のア～エの中から一つ選び、記号で答えなさい。

ア.ゲルマン民族 イ.ラテン民族 ウ.イスラム系民族 エ.スラブ民族



(6) 下線部 dの説明として最も適当なものを、次のア～エの中から一つ選び、記号で答えなさい。

- ア.食用作物とテンサイなど飼料作物による牛・豚などの家畜飼育をおこなう農業
- イ.乳牛・山羊などを飼いチーズ・バターなどの乳製品をつくる農業
- ウ.都市向けの生鮮野菜や草花を集約的に栽培する農業
- エ.オリーブ・ぶどう・オレンジなどの果樹栽培と冬の小麦栽培を合わせた農業

(7) 下線部 eについて、これらの国々のように欧米諸国が資本と技術を投入し、現地の豊富で安価な労働力を使用して、カカオ・天然ゴム・茶・タバコなどの商品作物を大規模に単一栽培する農業を何というか答えなさい。

(8) 下線部 fについて、イギリスは世界恐慌の時代にその対策として、植民地との間に閉鎖的な経済体制を築いた。この政策を何というか、答えなさい。

(9) 下線部gについて、加盟国の組み合わせとして最も適当なものを、次のア～エの中から一つ選び、記号で答えなさい。

- ア．カナダ・イタリア・スイス
- イ．フランス・ドイツ・中国
- ウ．アメリカ・イギリス・日本
- エ．スペイン・ポルトガル・オランダ

(10) 下線部hについて、加盟国の中の結びつきとして誤っているものを、次のア～エの中から一つ選び、記号で答えなさい。

- ア．加盟国間の人や商品の移動が自由にできる国が多い。
- イ．共通の通貨を使用している国が多い。
- ウ．小麦などの農作物は価格が共通になっているものがある。
- エ．各国の産業を保護するため、お互いに高い関税をかけている。

【2】次の①～④の各文を読んで、下の各問いに答えなさい。

①

私の生まれた町は年間の a 降水量 が全国でも非常に多いです。農作物ではシラス台地などでサツマイモや茶、夏みかんの生産が有名で、豚や肉牛の飼養頭数は全国でも上位です。歴史的には、江戸時代後期に新時代の幕開けを担った人物の出身地でもあります。

②

私の生まれた町は 65 歳以上の人口割合が全国トップで、人口増加率は全国最下位となっています。男鹿半島の八郎潟干拓地や雄物川流域は、b 米の生産 が活発であり米作面積率では新潟を抜いて全国トップとなっています。^{わら}藁で作った衣装とお面を着て、家々を回って厄払いや怠け者を諭す民謡行事が有名で、国の重要無形民俗文化財にも指定されています。

③

私の生まれた町は、大学進学率が全国でも上位であり、また、大学生の人口割合が高いです。盆地のため夏の気温が高く、年間猛暑日の平均日数も全国的に多いです。地球温暖化が問題視されるなか、この都市の名前が付けられた会議も開かれました。

④

私の生まれた町は年間の平均気温が低い津軽平野で、果物がよく育ち、総出荷量は全国トップにあたります。また、寒いことから公衆浴場の割合も高いです。男性・女性ともに平均寿命は全国最下位となっています。

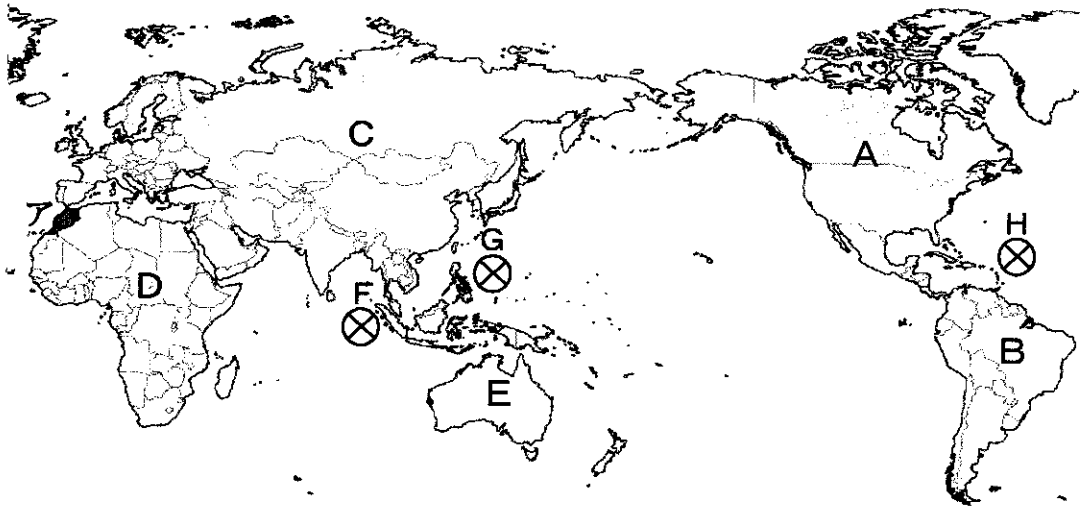
(1) ①～④それぞれの私の生まれた町のある都道府県名を答えなさい。

(2) 下線部 a について、日本の気候の特徴に最も関係の深い風を、次のア～エの中から1つ選び、記号で答えなさい。

ア. 季節風 イ. 恒常風 ウ. 貿易風 エ. 偏西風

(3) 下線部 b について、世界で最も米の生産量が多い国を答えなさい。(2014年度)

【3】 次の地図を見て、下の各問いに答えなさい。



- (1) 三大洋、全てに接している大陸をA～Eから選び、記号で答えなさい。また、その大陸名を答えなさい。
- (2) F～Hそれぞれの地域に発達した熱帯低気圧の名称を答えなさい。
- (3) アの国で見られる住居様式を①～③より、また信徒が多い宗教をa～cから1つ選び、記号で答えなさい。



①

a. イスラム教



②

b. キリスト教



③

c. 仏教

- (4) 東京を12月30日午前9時に出発して、10時間かけてモスクワ（東経45度）に到着したとき、モスクワの現地時間を答えなさい。（午前・午後をつけること）

【4】 次の文を読んで、下の各問いに答えなさい。

- ① 私は、天皇家が主導権を持つ国家をつくるため、645年中大兄皇子と協力して(あ)氏をたおして政権をにぎった。そして、a 初めて年号を定め、難波宮という新しい都をつくった。また、天智天皇から「藤原」の姓をたまわり、藤原氏のもとを開いた。
- ② 私は、初めは寺の小僧であったが、豊臣秀吉に認められて家臣となった。(い)年、徳川家康率いる東軍と、私の率いる西軍が b 美濃の関ヶ原 で戦った。全国の大名家はどちらかについて戦ったので、(う)分け目の戦いと呼ばれる。
- ③ 私は、1769年、コルシカ島に生まれ、フランス革命にも参加した。外国遠征の司令官となって手がらをたて政権を握り、個人の自由や平等を重んじる法律を定めた。1804年国民投票によって、(え)となった。
- ④ 私は、イタリア生まれの航海士である。1492年にアメリカ大陸に到達し、私はこれらをインドの一部だと考えていた。c 先住民を「インディアン」などとよぶ習慣はここから生まれた。
- ⑤ 私は、平治の乱のあと、伊豆に流されていた。令旨を受けて兵を挙げ、私が派遣した弟の義経が、1185年(お)の戦いで平氏を滅ぼした。また、鎌倉で指揮をとって集まってきた武士と d 主従関係を結んで御家人とし、政治の仕組みを整えた。1192年、武士の総大将として(か)に任じられた。

- (1) ①～⑤の私とは誰か、答えなさい。
- (2) (あ)～(か)に入る適語を答えなさい。
- (3) 下線部 a について、その年号を答えなさい。
- (4) 下線部 b について、現在の何県にあたるか答えなさい。
- (5) 下線部 c について、現在アメリカでは、先住民を何とよんでいるか、答えなさい。
- (6) 下線部 d について、御恩と奉公による主従関係で結ばれた社会制度を何というか、答えなさい。

【5】次の年表のできごとについて、下の各問いに答えなさい。


年	できごと
1871	岩倉使節団の欧米派遣・・・・・・・・・・イ
1890	第一回帝国議会の開催・・・・・・・・・・ロ
1894	日清戦争が始まる
1914	第一次世界大戦が始まる・・・・・・・・・・ハ
1917	ロシア革命がおこる
1919	中国で五・四運動がおこる
1929	世界恐慌が起こる・・・・・・・・・・ニ
1937	盧溝橋事件がおこる
1939	第二次世界大戦が始まる・・・・・・・・・・ホ

(1) 年表イについて、右は岩倉使節団の中心となった人々を撮影したものである。岩倉使節団に関する説明として誤っているものを次のア～エの中から一つ選び、記号で答えなさい。



- ア. 使節団には、大久保利通が加わっていた。
- イ. 使節団は、西南戦争後にわが国を出発した。
- ウ. 使節団には、女子留学生が同行していた。
- エ. 使節団は、欧米諸国の政治のしくみなどを視察した。

(2) 年表ロについて、右は最初の帝国議が開かれている様子をえがいたものである。政府が国会の開設を約束してから最初の国会が開かれるまでをのしめた次のア～ウを年代の古いものから順に、記号で答えなさい。



- ア. 伊藤博文が初代内閣総理大臣となる。
- イ. 最初の衆議院議員選挙が実施される。
- ウ. 板垣退助が自由党を結成する。

(3) 年表ハについて、第一次世界大戦に関して述べたものの中で誤っているものを次のア～エの中から一つ選び、記号で答えなさい。

- ア. 戦争の背景には、ドイツがバクダッドやムンバイを勢力圏とする3B政策をおしすすめていたことがあった。
- イ. セルビア人青年によるオーストリア皇太子夫妻の暗殺事件がきっかけとなって、第一次世界大戦は始まった。
- ウ. 三国協商の一国として参戦していたロシアでは、戦争による生活苦が一因となって社会主義革命が起こった。
- エ. 途中から連合国側に参戦したアメリカのウィルソン大統領は、パリ講和会議で「無併合・無賠償・民族自決」を主張した。

(4) 年表ニについて、世界恐慌に対し、世界各国がとった対応の内容として、誤っているものを次のア～エの中から一つ選び、記号で答えなさい。

- ア. アメリカはニューディール政策を掲げ、国内改革で乗り切ろうとした。
- イ. ソ連は、社会主義経済に多大な影響が及び、五か年計画を断念した。
- ウ. 日本やドイツは、新たな植民地を獲得して、経済危機の解決を図ろうとした。
- エ. 世界恐慌を契機に、ファシズムがドイツ・イタリア・日本で台頭した。

(5) 年表ホについて、第二次世界大戦後の日本および世界で起こった、次のア～ウの出来事を、年代の古いものから順に、記号で答えなさい。

- ア. 第四次中東戦争をきっかけに石油危機がおこった。
- イ. ベルリンの壁が崩壊した翌年には東西ドイツが統一された。
- ウ. アジアではじめてのオリンピック大会が、東京で開かれた。

【6】次の文を読んで、下の各問いに答えなさい。

世界の人口は2011年におよそ(あ)億人に達し、a 先進国と発展途上国との間に大きな経済格差があり、それはますます拡大している。

また、b 発展途上国の中でも資源をもつ国や、急速に発展を遂げる国とそうでない国の格差が生じている。その格差を少なくする意味でも、先進国は発展途上国と個々に協定を結び(い)(政府開発援助)を行っている。

- (1) 空欄(あ)に当てはまる数字を答えなさい。
- (2) 下線部 a を何問題というか。漢字2字で答えなさい。
- (3) 下線部 b を何問題と言うか。漢字2字で答えなさい。
- (4) 空欄(い)に入る適語をアルファベット3文字で答えなさい。
- (5) 2015年において、発展途上国への政府開発援助の額が最も多い国はどこか。次のア～エの中から1つ選び、記号で答えなさい。
ア. アメリカ
イ. 中国
ウ. 日本
エ. イギリス

【7】 次の(1)～(5)の文の、下線部 a・b どちらが誤っているかを選び、正しい語句に訂正しなさい。

- (1) ASEAN は a 東南アジア諸国連合の略であるが、その構成国は現在、インドネシア、ベトナムなど b 8か国で構成される。
- (2) 地球環境を守るため、a 1997年に採択された先進国の温室効果ガス排出削減を定めた議定書を b 東京議定書という。
- (3) a シンガポール、香港、台湾、b 中国など外国資本を導入して工業化を進めた地域と国を新興工業経済地域（アジア NIEs）という。
- (4) 1960年、a メジャーズ（国際石油資本）に対抗して、結成された産油国のカルテル機構を b OECD（石油輸出国機構）という。
- (5) 株式を発行して、資金を調達する会社を a 有限会社といい、多くの国にそれぞれの国籍をもつ子会社を置く企業を b 多国籍企業という。

